

<たんげん> なんばんめ (きょうかしよ1ねん p.28~p.30)

<めあて> どこから なんばんめになるか かんがえよう。

1 きょうかしよの 28ぺえじと 29ぺえじで なんばんめか こたえましょう。

- ① いぬは まえから なんばんめですか。 _____ ばんめ
- ② すずめは うえから なんばんめですか。 _____ ばんめ
- ③ すいとうは ひだりから なんばんめですか。 _____ ばんめ
- ④ ひつじは うしろから なんばんめですか。 _____ ばんめ
- ⑤ からすは したから なんばんめですか。 _____ ばんめ
- ⑥ あかいぼうしは みぎから なんばんめですか。 _____ ばんめ

2 きょうかしよの 28ぺえじと 29ぺえじで もんだいを つくってみましょう。

(れい) きつねは うしろから なんばんめですか。

3 まるで かこみましょう。

① まえから 4にんめ



② まえから 4にん



4 GIFU Webラーにんぐをつかって「たんげんまとめの れんしゅう」の がくしゅうを すすめましょう。
 パソコンや タブレットなどで GIFU Webラーにんぐにつなぐときは おうちの ひとに きいて みま
 しょう。

【おうちのひとへ】

GIFU Web ラーニングを使用するためのログイン名とパスワードPWは、
 学校にお知らせしてありますので、ご確認ください。

※(こたえ) 1①2ばんめ ②3ばんめ ③4ばんめ ④1ばんめ ⑤1ばんめ ⑥5ばんめ

2(おうちの ひとに みてもらいましょう。)

3①○○○○○ ○○○○ ②○○○○○ ○○○○

<たんげん> いくつと いくつ (きょうかしよIねん p.31~p.40)

<めあて> いくつと いくつに なるか かんがえよう。

1 きょうかしよの 32ぺえじを みましよう。5は いくつと いくつか こたえましよう。

- ①○○○●● ②○○○○● ③○○●●● ④○●●●●


3 と と と と

2 きょうかしよの 33ぺえじを みましよう。6は いくつと いくつか こたえましよう。

- ①○○●●●●● ②○●●●●●● ③○○○●●●● ④○○○○○●● ⑤○○○○○●●●

2 と と と と と

3 きょうかしよの 34ぺえじを みましよう。7になるように せんで つなぎましよう。



4 きょうかしよの 35ぺえじを みましよう。8は いくつと いくつですか。○に せんを ひきましよう。

(れい)

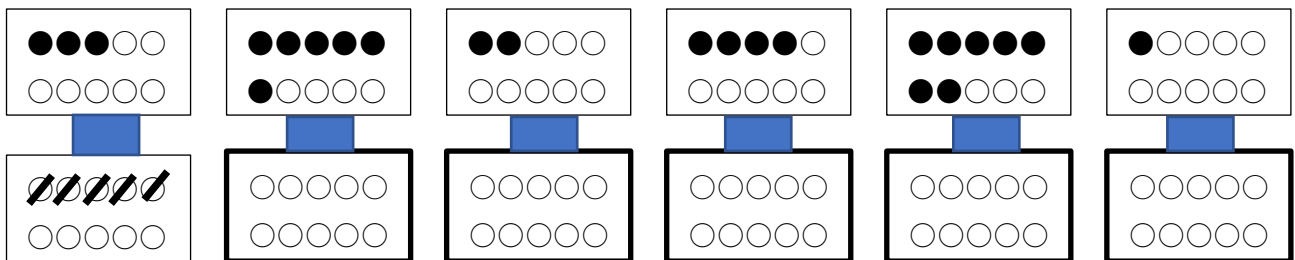
①

②

③

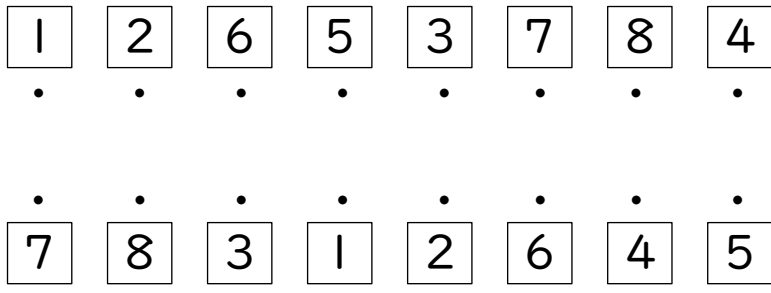
④

⑤



※きょうかしよの ように いろを ぬっても よいです。

5 きょうかしよの 36ぺえじを みましよう。9は いくつと いくつですか。せんで つなぎましよう。



6 きょうかしの 37ぺえじを みましょう。10は いくつと いくつですか。

| | |
|--|-----|
| | 4 と |
| | と |
| | と |
| | と |
| | と |
| | と |
| | と |
| | と |
| | と |

7 きょうかしの 38ぺえじで かずの ならびかたで きづいたことを かきましょう。

8 きょうかしの 39ぺえじで 10をつくる げえむを しましょう。

(おうちのひとが じかんが あるときに やりましょう。)

9 ^{ぎふ} ^{うえぶ} GIFU Webらーにんぐを つかって 「たんげんまとめの れんしゅう」の がくしゅうを すすめましょう。
 パソコンや タブレットなどで ^{ぎふ} ^{うえぶ} GIFU Webらーにんぐにつなぐときは おうちのひとに きいて みま

※(こたえ) 1 ①3と2 ②4と1 ③2と3 ④1と4

2 ①2と4 ②1と5 ③3と3 ④5と1 ⑤4と2

3(ひだりから) $\begin{array}{|c|} \hline \square \\ \hline \end{array}$ と $\begin{array}{|c|} \hline \square \\ \hline \end{array}$ $\begin{array}{|c|} \hline \square \\ \hline \end{array}$ と $\begin{array}{|c|} \hline \square \\ \hline \end{array}$ $\begin{array}{|c|} \hline \square \\ \hline \end{array}$ と $\begin{array}{|c|} \hline \square \\ \hline \end{array}$ $\begin{array}{|c|} \hline \square \\ \hline \end{array}$ と $\begin{array}{|c|} \hline \square \\ \hline \end{array}$ $\begin{array}{|c|} \hline \square \\ \hline \end{array}$ と $\begin{array}{|c|} \hline \square \\ \hline \end{array}$ $\begin{array}{|c|} \hline \square \\ \hline \end{array}$ と $\begin{array}{|c|} \hline \square \\ \hline \end{array}$

4(ひだりから)①2こ ②6こ ③4こ ④1こ ⑤7こ

5(ひだりから) $\begin{array}{|c|} \hline 1 \\ \hline \end{array}$ と $\begin{array}{|c|} \hline 8 \\ \hline \end{array}$ $\begin{array}{|c|} \hline 2 \\ \hline \end{array}$ と $\begin{array}{|c|} \hline 7 \\ \hline \end{array}$ $\begin{array}{|c|} \hline 6 \\ \hline \end{array}$ と $\begin{array}{|c|} \hline 3 \\ \hline \end{array}$ $\begin{array}{|c|} \hline 5 \\ \hline \end{array}$ と $\begin{array}{|c|} \hline 4 \\ \hline \end{array}$ $\begin{array}{|c|} \hline 3 \\ \hline \end{array}$ と $\begin{array}{|c|} \hline 6 \\ \hline \end{array}$ $\begin{array}{|c|} \hline 7 \\ \hline \end{array}$ と $\begin{array}{|c|} \hline 2 \\ \hline \end{array}$ $\begin{array}{|c|} \hline 8 \\ \hline \end{array}$ と $\begin{array}{|c|} \hline 1 \\ \hline \end{array}$ $\begin{array}{|c|} \hline 4 \\ \hline \end{array}$ と $\begin{array}{|c|} \hline 5 \\ \hline \end{array}$

6(うえから)4と6 1と9 3と7 6と4 8と2 2と8 5と5 7と3 9と1

7(おうちの ひとに みてもらいましょう。)

8(おうちの ひとが じかんが あるときに やりましょう。)

★がくしゅうの ふりかえりを しましょう。

「がっこうが はじまったら せんせいに ききたいこと」や

「わからなかった こと・しんぱいな こと」が あったら かきましょう。