

氏名 _____

学習日 _____ 月 _____ 日 ()

小学校第4学年算数

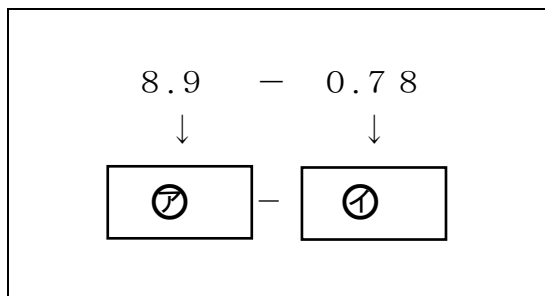
1 次の問題に答えましょう。

(1) $8.9 - 0.78$ のおよその答えとしてふさわしいものを、下のア～エの中から1つ選び、その記号を書きましょう。

- ア 0.1
- イ 1
- ウ 0.8
- エ 8

(2) $8.9 - 0.78$ を、 0.01 をもとにした式に表します。

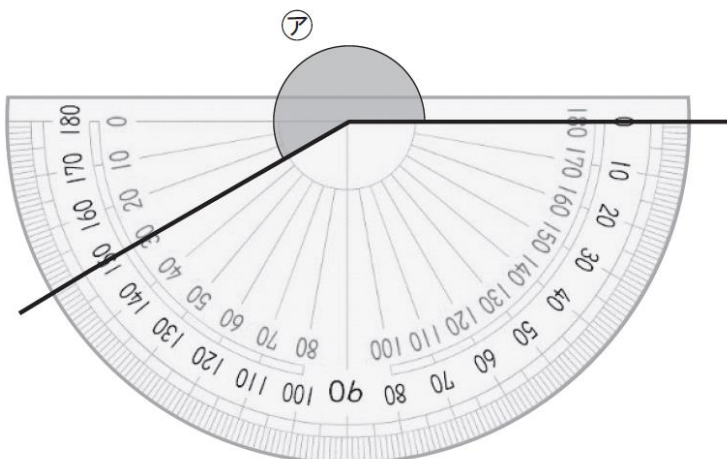
8.9 と 0.78 は、それぞれ 0.01 を何こ集めた数になりますか。下のア、イに入る数を書きましょう。



ア
イ

(3) $8.9 - 0.78$ を計算しましょう。

2 アの角度は何度でしょう。



氏名 _____

学習日 _____ 月 _____ 日 ()

小学校第4学年算数（正答例）

1 次の問題に答えましょう。

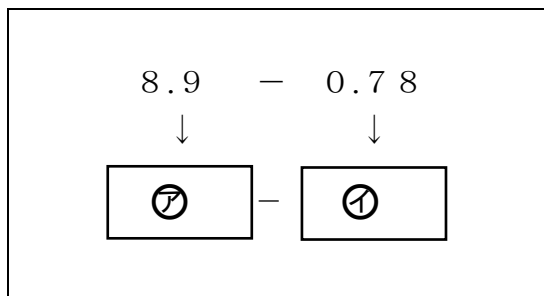
(1) $8.9 - 0.78$ のおよその答えとしてふさわしいものを、下のア～エの中から1つ選び、その記号を書きましょう。

- ア 0.1
- イ 1
- ウ 0.8
- エ 8

エ

(2) $8.9 - 0.78$ を、 0.01 をもとにした式に表します。

8.9 と 0.78 は、それぞれ 0.01 を何こ集めた数になりますか。下のア、イに入る数を書きましょう。

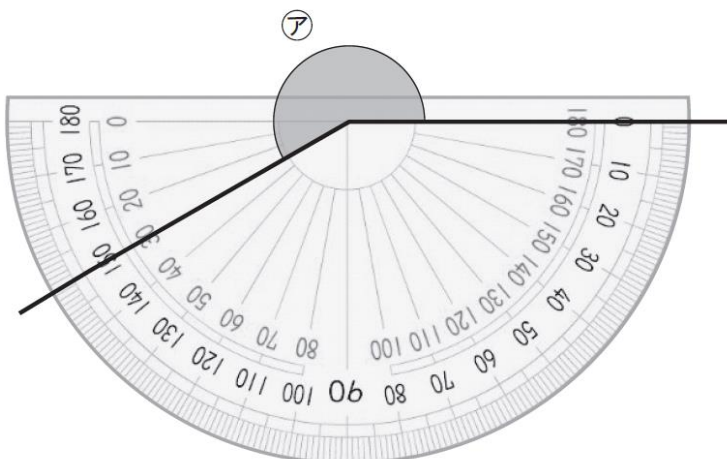


ア	890
イ	78

(3) $8.9 - 0.78$ を計算しましょう。

8.12

2 アの角度は何度でしょう。



210°
