

<単元> **直方体と立方体** (教科書4年 p.205~p.219)

ぎふ うえぶ
 GIFU Webラーニングを使って、「たんげんまとめ練習」の学習を進めると、下の問題ができます。
 パソコンやタブレットなどで、ぎふ うえぶ
 GIFU Webラーニングにつなぐときは、おうちの人に聞いてみましょう。
 ぎふ うえぶ
 GIFU Webラーニングが使えないときは、下の問題に取り組んでみましょう。

【おうちのひとへ】

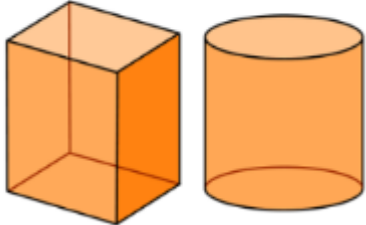
GIFU Web ラーニングを使用するためのログイン名とパスワードPWは、学校にお知らせしてありますので、ご確認ください。

<めあて> 直方体の持ちようについて知ろう。

1 次の問題に答え、正しい方に○をつけましょう。

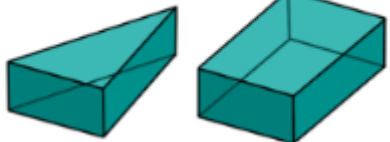
問題① 直方体はどちらですか。正しい方をえらびなさい。

ア イ



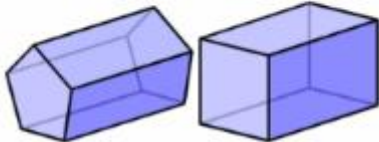
問題② 直方体はどちらですか。正しい方をえらびなさい。

ア イ



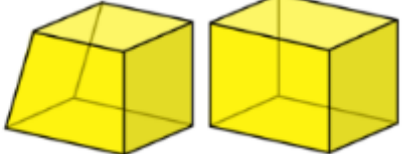
問題③ 直方体はどちらですか。正しい方をえらびなさい。

ア イ

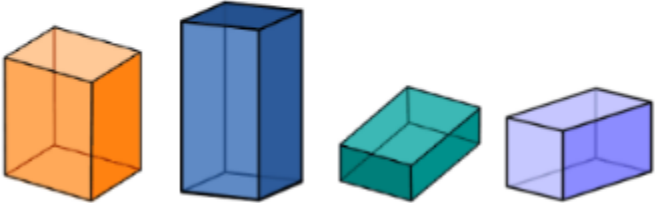


問題④ 直方体はどちらですか。正しい方をえらびなさい。


ア イ



直方体は**長方形**だけ、または**正方形と長方形**でかこまれた形です。



直方体の**面**、**頂点**、**辺**の数



| | |
|------|----|
| 面の数 | 6 |
| 頂点の数 | 8 |
| 辺の数 | 12 |

問題⑤ 直方体の正しい見取り図はどちらですか。正しい方をえらびなさい。

ア イ

問題⑥ 直方体の正しい見取り図はどちらですか。正しい方をえらびなさい。

ア イ

問題⑦ 直方体の正しい見取り図はどちらですか。正しい方をえらびなさい。

ア イ

問題⑧ 直方体の正しい見取り図はどちらですか。正しい方をえらびなさい。

ア イ

<めあて> 立方体の持ちようについて知ろう。

2 次の問題に答え、正しい方に○をつけましょう。

問題① 立方体はどちらですか、正しい方をえらびなさい。

ア イ

問題② 立方体はどちらですか、正しい方をえらびなさい。

ア イ

問題③ 立方体はどちらですか、正しい方をえらびなさい。

ア イ

問題④ 立方体はどちらですか、正しい方をえらびなさい。

ア イ

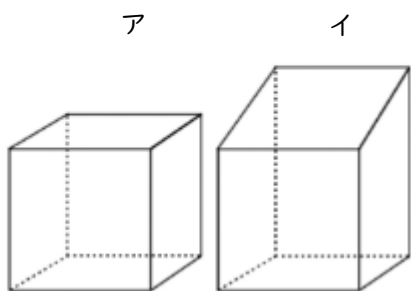
立方体の面、頂点、辺の数



| | |
|------|----|
| 面の数 | 6 |
| 頂点の数 | 8 |
| 辺の数 | 12 |

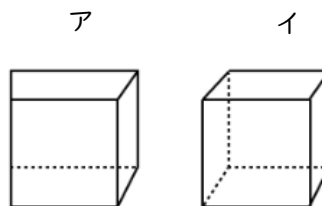
問題⑤

立方体の正しい見取り図はどちらですか。正しい方をえらびなさい。



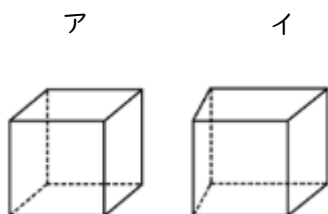
問題⑥

立方体の正しい見取り図はどちらですか。正しい方をえらびなさい。



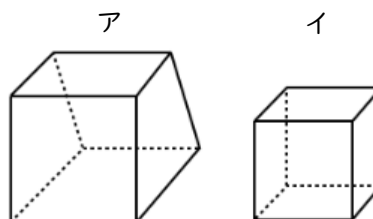
問題⑦

立方体の正しい見取り図はどちらですか。正しい方をえらびなさい。



問題⑧

立方体の正しい見取り図はどちらですか。正しい方をえらびなさい。

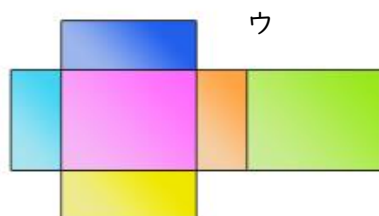
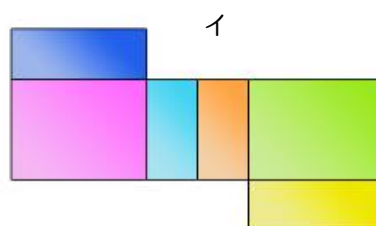
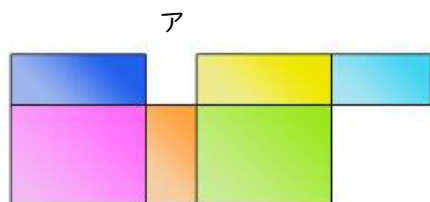


<めあて> 展開図について知ろう。

3 次の問題に答え、当てはまるものに○をつけましょう。

問題①

次の図で、直方体の展開図はどれですか。



問題 ② 次の図で、直方体の展開図はどれですか。

ア

イ

ウ

問題 ③ 次の図で、直方体の展開図はどれですか。

ア

イ

ウ

問題 ④ 次の図で、直方体の展開図はどれですか。

ア

イ

ウ

問題⑤ 次の図で、立方体の展開図はどれですか。

ア イ ウ

問題⑥ 次の図で、立方体の展開図はどれですか。

ア イ ウ

問題⑦ 次の図で、立方体の展開図はどれですか。

ア イ ウ

問題⑧ 次の図で、立方体の展開図はどれですか。

ア イ ウ

※答え

- 1 ①ア ②イ ③イ ④イ ⑤ア ⑥イ ⑦ア ⑧イ 2 ①ア ②イ ③イ ④ア ⑤ア ⑥イ ⑦ア ⑧イ
 3 ①ウ ②ア ③ウ ④イ ⑤イ ⑥ウ ⑦ア ⑧ア