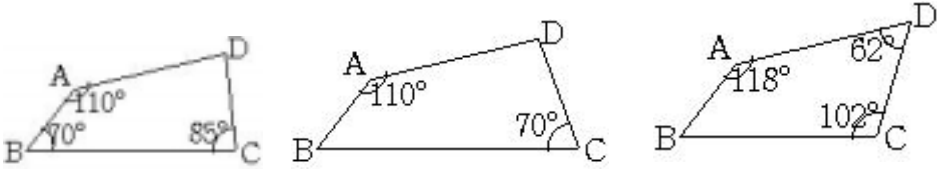
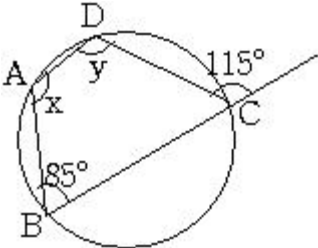


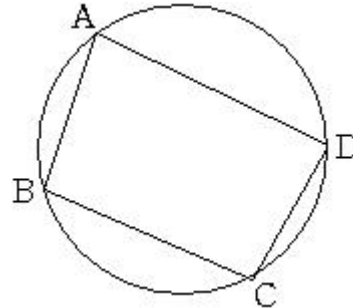
問題番号	問い	<p>下の四角形 A B C D で、円に内接するものはどれか、 ~ から選びなさい。</p> 		
2 1	正解			
誤 答 例		つ ま ず き 原因	分析と解消	
1	無解答	問題の意味が理解できていない。	6 5 ページ 【 2 1 - 1 】	
2		向かい合う内角の大きさの和が $180^\circ$ のとき、円に内接することが理解できていない。	6 5 ページ 【 2 1 - 2 】	
3		向かい合う内角の大きさの和が $180^\circ$ のとき、円に内接することが理解できていない。	6 5 ページ 【 2 1 - 2 】	
<p>正解の解説</p> <p>四角形が円に内接するのは、向かい合う角の大きさの和が <math>180^\circ</math> の場合だから、 が正解である。</p>				
練習	<p>下の図のように、四角形 A B C D が円に内接している。 <math>x</math> , <math>y</math> の大きさを求めなさい。</p> 			
解答	<p> <math>B + C = 180^\circ - 115^\circ = 65^\circ</math>      <math>x = 180^\circ - 65^\circ = 115^\circ</math>      <math>x = 115^\circ</math>  <math>y = 180^\circ - 85^\circ = 95^\circ</math>      <math>y = 95^\circ</math> </p>			

誤答例1のつまずきの分析【21 - 1】

問題の意味が理解できていないと思われます。また、四角形が円に内接する場合の内角に対する条件が理解できていないようにも思われます。

つまずきの解消

右の図のように、四角形A B C Dの4つの頂点が1つの円周上にあるとき、この四角形は円に内接するといいます。四角形の2つの内角が与えられたとき、四角形が円に内接するかどうかを調べる問題です。



四角形が円に内接する場合の内角に対する条件については、【21 - 2】のつまずき解消を参照してください。

誤答例2, 3のつまずきの分析【21 - 2】

向かい合う内角の大きさの和が180°のとき、四角形が円に内接することが理解できていないように思われます。

つまずきの解消

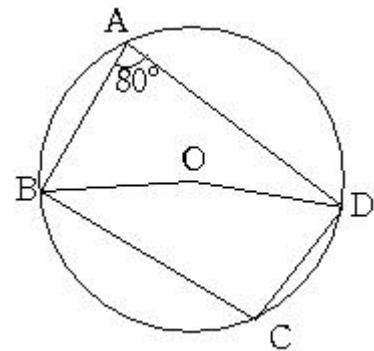
それでは、四角形が円に内接するとき、内角についてどのような性質が成り立つのかを調べてみよう。

まず、 $A=80^\circ$ のとき、 $C$ の大きさを求めてみよう。円周角の定理より、  
 $BOD = 2 \times 80^\circ = 160^\circ$

$$C = \frac{1}{2} \times (360^\circ - 160^\circ) = 100^\circ$$

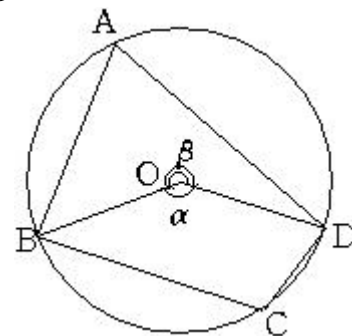
となる。ここで、 $A$ と $C$ を加えてみると、  
 $A + C = 80^\circ + 100^\circ = 180^\circ$ となり、  
 四角形が円に内接する場合、向かい合う内角の和は、180°になることが予想されます。

そこで、円に内接する四角形の向かい合う角の大きさの和が、どのようになるのかを考えてみよう。



円周角の定理より、

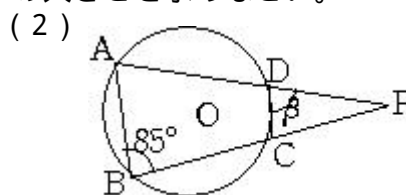
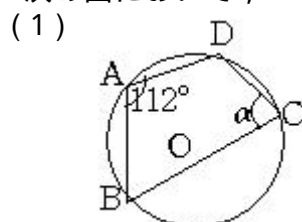
$$\begin{aligned} \angle BOD &= 2 \times \angle BAD, \quad \angle BOD = 2 \times \angle BCD \\ &+ \quad = 360^\circ \text{ だから,} \\ 2 \times \angle BAD + 2 \times \angle BCD &= 360^\circ \\ \text{よって, } \angle BAD + \angle BCD &= 180^\circ \text{ となります。} \end{aligned}$$



円に内接する四角形の向かい合う角の大きさの和は、180°である。

【練習問題】

次の図において、 $\alpha$ 、 $\beta$ の大きさを求めなさい。



<解答>  
 $\alpha = 68^\circ$   $\beta = 85^\circ$

次に、『四角形の向かい合う角の大きさの和が  $180^\circ$  ならば，この四角形は円に内接するかどうか』を考えてみましょう。

図のような四角形  $ABCD$  において，  $B + D = 180^\circ$  とする。

$ABC$  の外接円をかき，その中心を  $O$  とする。

円  $O$  上に点  $E$  をとり，円  $O$  に内接する四角形  $ABCE$  をつくる。

円に内接する四角形の向かい合う角の大きさの和は， $180^\circ$  だから，

$$B + E = 180^\circ \dots$$

また，仮定より

$$B + D = 180^\circ \dots$$

，より

$$B + E = B + D$$

よって，  $E = D$

円周角の定理の逆を利用することにより，点  $D$  は円  $O$  の円周上にあることがわかり，四角形  $ABCD$  は円  $O$  に内接することがわかる。

