

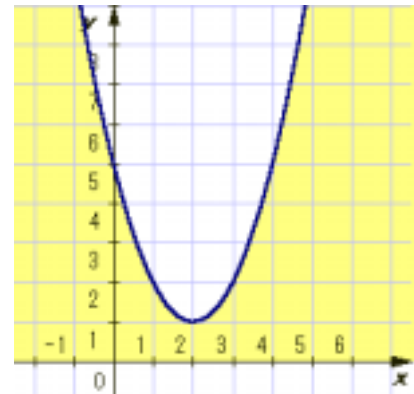
問題番号	問い	2次不等式 $x^2 - 4x + 5 > 0$ を解きなさい。
------	----	----------------------------------

19	正解	すべての実数
----	----	--------

誤答例		つまずき原因	分析と解消
1	無解答	2次不等式を解く意味を理解していない。	50ページ 【19-1】
2	$x < -1, 5 < x$	誤った因数分解を行ってしまった。	21ページ 【8-1】
3	解なし	2次方程式としてみた場合の「解なし」をそのまま適用した。	51ページ 【19-2】
4			

正解の解説 1

$y = x^2 - 4x + 5$ とみなして描いてみると
 $y = (x - 2)^2 + 1$
 と変形できるので、右のような頂点が(2, 1)の下に凸の放物線のグラフとなる。
 よって、 $x^2 - 4x + 5 > 0$ の解は、すべての実数である。



正解の解説 2

方程式とみなして、判別式をとると
 $D = (-4)^2 - 4 \cdot 1 \cdot 5 = -4 < 0$ となり、
 解がないことがわかる。
 これは $y = x^2 - 4x + 5$ とみなしたグラフが、
 軸と共有点をもたないことと同じである。 x^2 の係数 > 0 なので、グラフは下に凸。
 よって、 $x^2 - 4x + 5 > 0$ の解は、すべての実数である。

正解の解説 3

$x^2 - 4x + 5$ は $(x - 2)^2 + 1$ と変形できる。
 すべての実数 x について、 $(x - 2)^2 \geq 0$ 、これに $+ 1$ をしているので、
 $(x - 2)^2 + 1 > 0$
 よって、 $x^2 - 4x + 5 > 0$ の解は、すべての実数である。

練習 次の2次不等式を解きなさい。

- (1) $x^2 - 4x + 7 > 0$
- (2) $x^2 - 2x + 3 > 0$
- (3) $2x^2 - 4x + 5 > 0$

- 解答
- (1) すべての実数
 - (2) すべての実数
 - (3) すべての実数

誤答例 1 のつまずきの分析【19 - 1】

2 次関数のグラフを描くことができないと思われます。2 次関数のグラフを描けるようになることが、2 次不等式を確実に解けるようになる近道です。特に頂点の座標を求めることと、グラフが上に凸か下に凸かの判断することが重要です。

つまずきの解消

$x^2 - 4x + 5 > 0$ を解くということは、 $y = x^2 - 4x + 5$ とみなしたとき、常に $y > 0$ となるような、 x の値の範囲を求めることです。

そこでまず、60 ページで 2 次関数のグラフを描くための式変形を確認しましょう。

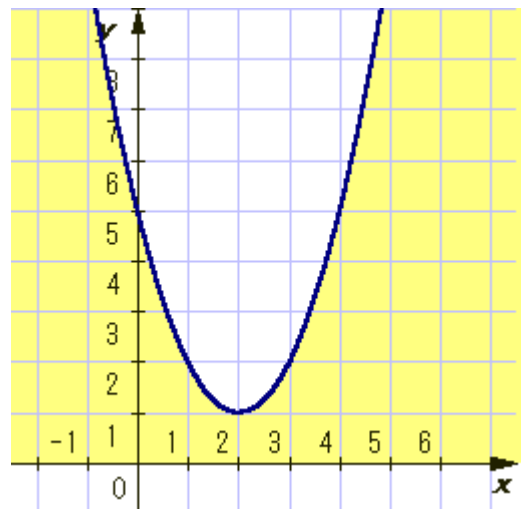
$y = x^2 - 4x + 5$ とみなして、このグラフを描いてみます。
 $y = x^2 - 4x + 5$ の式は $y = (x - 2)^2 + 1$

と変形できるので、右のように頂点は (2, 1)、下に凸の放物線のグラフになります。

このことから、 x のすべての値に対して、 $y > 0$ となります。実際、主な値の変化を調べてみると、以下のようになり、 y の値は常に正になると予想されます。

	...	0	1	2	3	4	...
y	...	5	2	1	2	5	...

このことをグラフを活用して確認すれば、 $x^2 - 4x + 5 > 0$ の解は、すべての実数です。



誤答例 1 のつまずきの分析【19 - 1】

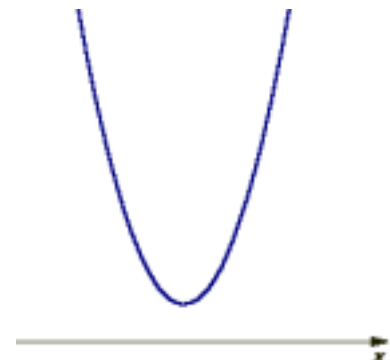
判別式をうまく利用できないと思われます。このような 2 次不等式はグラフをかく方法の他に、判別式とグラフが上に凸か下に凸かの判断することで解く方法もあります。判別式を利用することは、グラフを描く場合、予想を立てることができて便利です。

つまずきの解消

判別式を利用して、2 次不等式を解くことができます。そこでまず、60 ページで判別式と 2 次不等式の解との関係について確認しましょう。

ここでは、 $x^2 - 4x + 5 = 0$ とみなして判別式をとると
 $D = (-4)^2 - 4 \cdot 1 \cdot 5 = -4 < 0$
 となり、この方程式は解がないことがわかります。

これは $y = x^2 - 4x + 5$ とみなしたグラフが、
 軸と共有点を持たないことと同じです。
 x^2 の係数 > 0 なので、グラフは下に凸の右のようなグラフ
 になります。
 よって、 $x^2 - 4x + 5 > 0$ の解は、
すべての実数です。



誤答例2のつまずきの分析【19 - 2】

2次方程式と2次不等式の関係を理解していないと思われます。 $x^2 - 4x + 5 = 0$ とみなした2次方程式に解が無くても、 $x^2 - 4x + 5 > 0$ の2次不等式にも解が無いとは限りません。 $y = x^2 - 4x + 5$ のグラフの概形をつかむことが大切です。

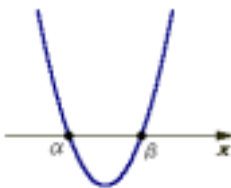


つまずきの解消

ここでは、 $x^2 - 4x + 5 = 0$ とみなして、判別式をとると
 $D = (-4)^2 - 4 \cdot 1 \cdot 5 = -4 < 0$ となり、この方程式は解が無いことがわかります。

しかしながら、 $x^2 - 4x + 5 > 0$ を解くということは、 $y = x^2 - 4x + 5$ とみなしたとき、常に $y > 0$ となるような、 x の値の範囲を求めることです。

つまずきの分析と解消19 - 1ページに戻ってみましょう。また、23ページで2次関数と判別式について確認しましょう。

また、 $a > 0$ の場合について、 $ax^2 + bx + c = 0$ と $ax^2 + bx + c > 0$ 、及び、 $ax^2 + bx + c < 0$ との関係をまとめると次の表のようになっています。2次方程式に解が無いからといって、2次不等式にも解が無いとは限りません。

$b^2 - 4ac$ の符号	$b^2 - 4ac > 0$	$b^2 - 4ac = 0$	$b^2 - 4ac < 0$
$y = ax^2 + bx + c$ のグラフ ($a > 0$ の場合)			
2次方程式 $ax^2 + bx + c = 0$ の解	$x = \alpha, \beta$	重解 $x = -\frac{b}{2a}$	解はない
2次不等式 $ax^2 + bx + c > 0$ の解	$x < \alpha$, $x > \beta$	$x \neq -\frac{b}{2a}$ を除く すべての数	すべての数
$ax^2 + bx + c < 0$ の解	$\alpha < x < \beta$	解はない	解はない